

聖公會蔡功譜中學
中一地理科

課業 2：甚麼是農業區？

請參閱課本頁 9 至頁 13，並完成：

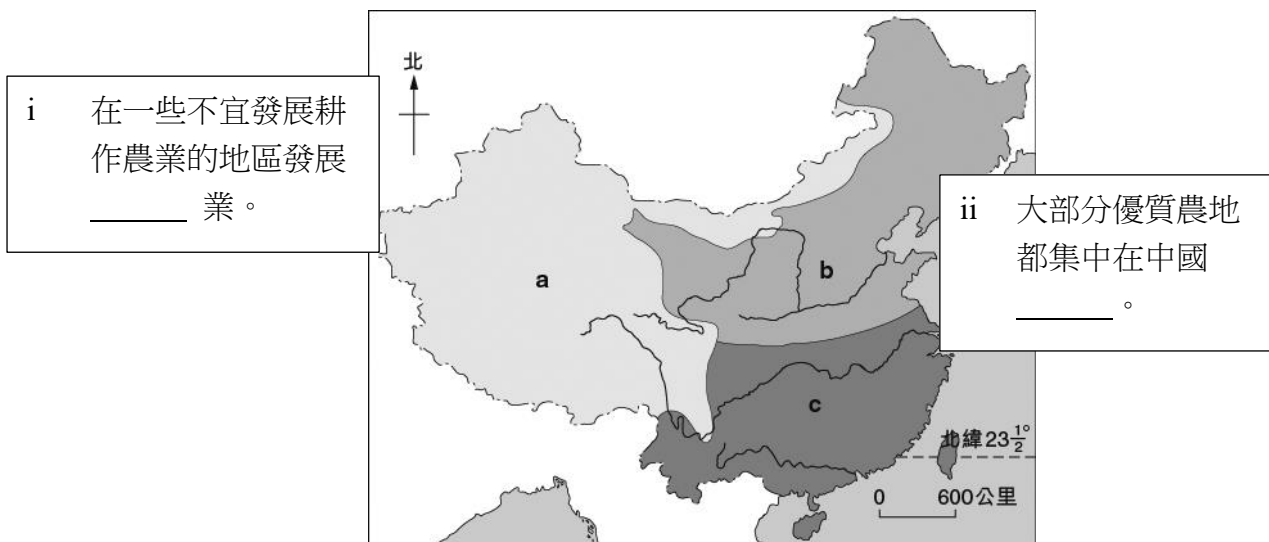
1. 以下練習及
2. 課本頁 14 至頁 15 (課業 2 答案將刊載於課業 3 中)

A. 甚麼是農業區？

1. 在同一農業區內，農民會種植相同的 _____ 或飼養相同的 _____，耕作方法也大致相同。

B 中國的主要農業區在哪裏？

- 1 中國的農地分佈 _____。一般來說，中國有三個主要農業區。
- 2 完成下表，顯示中國三個主要農業區的特徵。

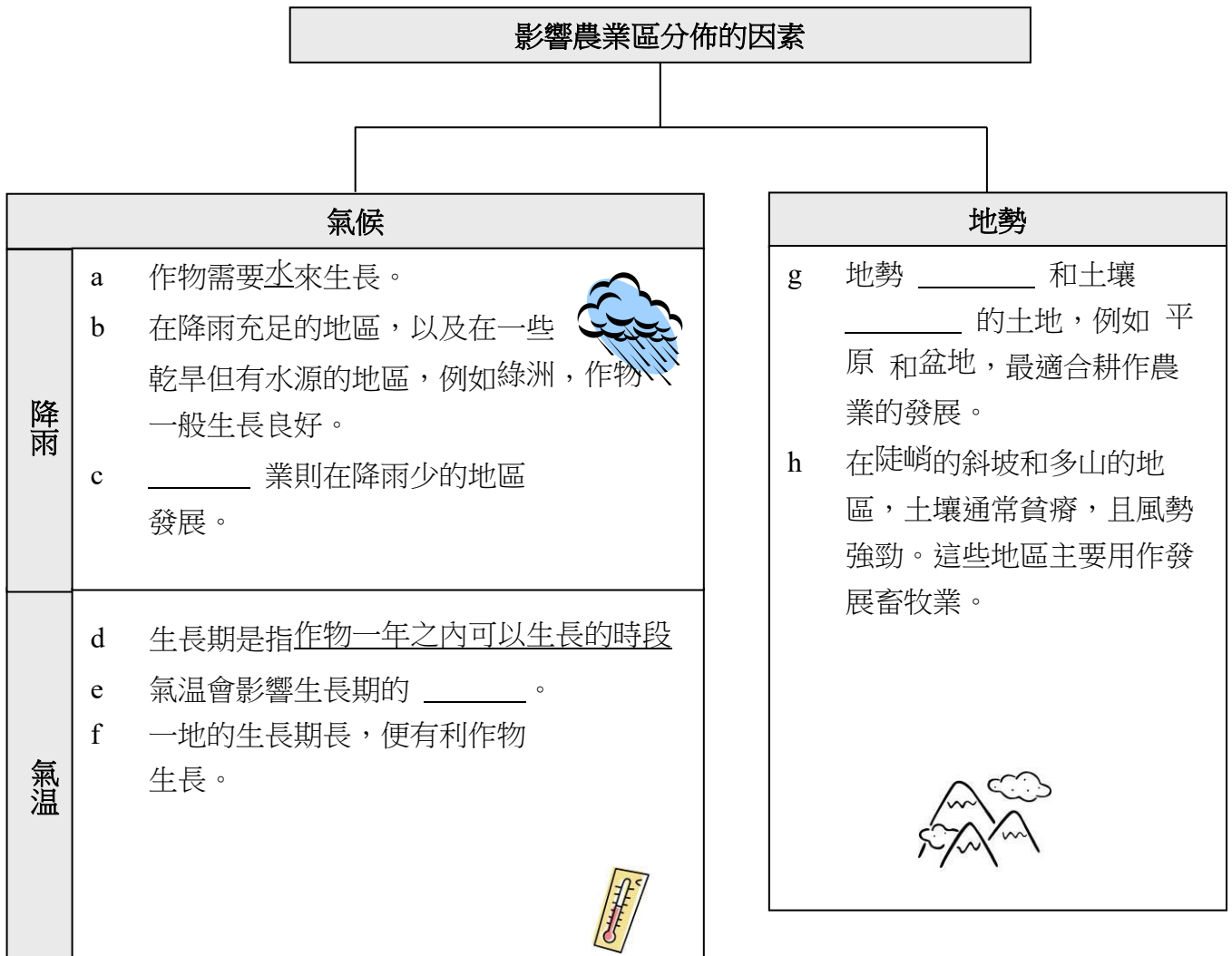


| | 農場規模 | 農業類型 | 主要牲畜／作物 |
|------------------|------|---|---------------|
| a 中國西北部和青藏高原 | 大 | <ul style="list-style-type: none"> • 畜牧業 • 粗放式 | _____、牛、馬、駱駝 |
| b 中國北部和東北部 | 大 | <ul style="list-style-type: none"> • 耕作農業 • 粗放式 | _____、粟米、馬鈴薯 |
| c 長江中下游、中國南部和西南部 | 小 | <ul style="list-style-type: none"> • 耕作農業 • 集約式 | _____、蔬菜、熱帶水果 |

聖公會蔡功譜中學
中一地理科

C 甚麼因素影響中國農業區的分佈？

1 完成以下流程圖，顯示影響中國農業區分佈的因素。



課業 1 答案:

課業 1：中國的農地在哪裏？

A 甚麼是農業？

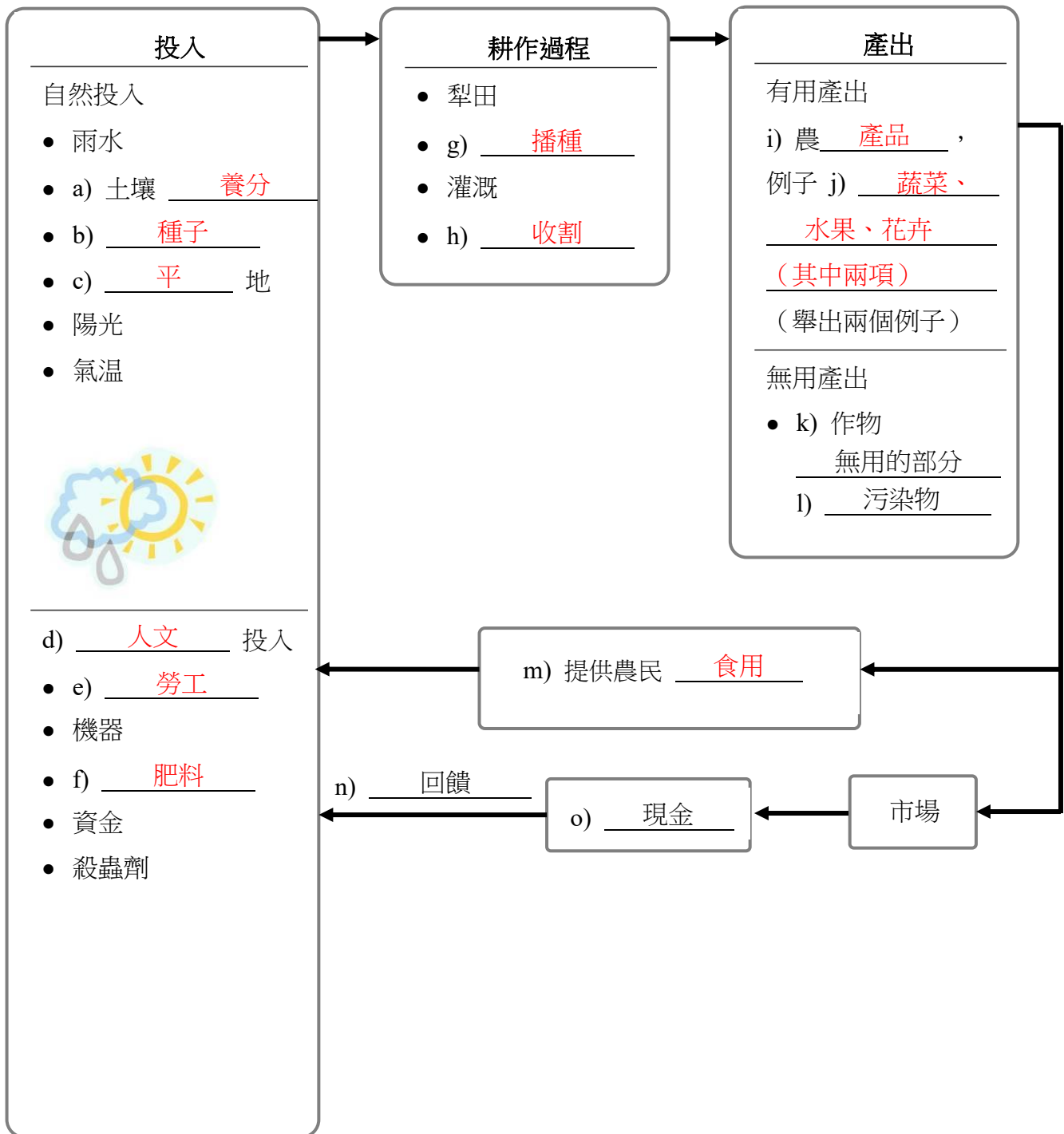
1. 完成下表，找出農業的含義。



2. 農場生產的作物和牲畜稱為農場品，主要用作民眾的糧食或工業原料等用途。

聖公會蔡功譜中學
中一地理科

3. 完成以下農業系統的流程圖。



B. 農業有哪些主要類型？

我們可以根據以下的準則把農業活動分類。

聖公會蔡功譜中學
中一地理科

1 每單位土地的投入量

| a <u>集約式</u> 農業 | b <u>粗放式</u> 農業 |
|--|--|
|  <p>i 每單位土地投入量 (<u>高</u> / 低)，例如 勞工、機器、資金等</p> <p>ii 農場規模：<u>(小)</u> / 大)</p> |  <p>i 每單位土地投入量 (高 / <u>低</u>)，例如 勞工、機器、資金等</p> <p>ii 農場規模：(小 / <u>大</u>)</p> |
| 例子：園藝農業 | 例子：澳洲東南部的小麥牧羊農業 |

2 產出的類型

| a <u>耕作</u> 農業 | b <u>畜牧</u> 業 | c <u>混合</u> 農業 |
|---|--|---|
|  <p>種植作物</p> |  <p>(鳴謝：Samrat35/ 飼養牲畜</p> |  <p>在同一農場內種植作物 和飼養牲畜</p> |
| 例子：園藝農業 | 例子：新西蘭的乳牛畜牧業 | 例子：澳洲東南部的小麥牧羊農業 |

3 產出的用途

| | |
|----------------|----------------|
| a <u>自給</u> 農業 | b <u>商業</u> 農業 |
|----------------|----------------|

聖公會蔡功譜中學
中一地理科

| | |
|--|--|
|  <p>農產品供 <u>農民</u> 和 <u>家人</u> 食用</p> |  <p>農產品會 <u>出售</u> 到市場</p> |
| <p>例子：東南亞的稻米種植業</p> | <p>例子：園藝農業 澳洲東南部的小麥牧羊農業</p> |

4 使用科技的程度

| | |
|---|--|
| <p>a <u>高</u> 科技農業</p> | <p>b <u>低</u> 科技農業</p> |
|  <p>(鳴謝：Jolin/Dreamstime.com)</p> <p>i 採用 <u>現代化</u> 先進農業科技，例如生物科技</p> <p>ii 依賴 <u>機器</u> 處理農務，並使用大量 <u>燃料</u> 來營運農場</p> |  <p>i 採用 <u>傳統</u> 的簡單耕作方法</p> <p>ii 依賴 <u>動物</u> 和 <u>人手</u> 處理農務</p> |
| <p>例子：新西蘭的乳牛畜牧業</p> | <p>例子：東南亞的稻米種植業</p> |